

## Von der relativen Häufigkeit zur Wahrscheinlichkeit

Es werden 120 Schüler befragt, ob sie ein Handy besitzen.  
Das Ergebnis der Umfrage lautet: Von 120 Schülern besitzen 99 ein Handy.

Ereignis E: Schüler besitzt ein Handy

Die **absolute Häufigkeit H** des Ereignisses E beträgt in diesem Fall 99.  
Das ist die Anzahl der Fälle, in denen E eintritt.  
Der Stichprobenumfang n beträgt in diesem Fall 120.

Die **relative Häufigkeit** von E ist gegeben durch  $h(E) = \frac{H(E)}{n} = \frac{99}{120} = 0,825$

Allgemein gilt:

Relative Häufigkeit eines Ereignisses =  $\frac{\text{absolute Häufigkeit des Ereignisses}}{\text{Stichprobenumfang}}$

Formal:  $h(E) = \frac{H}{n}$

**Übung:** Bestimmen Sie die relative Häufigkeit des Gegenereignisses  $\bar{E}$   
und bilden Sie die Summe aus  $h(E)$  und  $h(\bar{E})$

**Lösung:** Das Gegenereignis lautet  $\bar{E}$  : Schüler besitzt kein Handy

Damit beträgt die relative Häufigkeit von  $\bar{E}$   $h(\bar{E}) = \frac{H(\bar{E})}{n} = \frac{21}{120} = 0,175$

Summe:  $h(E) + h(\bar{E}) = 0,825 + 0,175 = 1$

**Merke:** Für ein Ereignis E und sein Gegenereignisses  $\bar{E}$  gilt:  $h(E) + h(\bar{E}) = 1$

## Definition der Wahrscheinlichkeit

Bei der Definition der Wahrscheinlichkeit unterscheidet man zwischen der **klassischen Definition** und der **statistischen Definition**.

<b>klassische Wahrscheinlichkeit am Beispiel eines idealen Würfels</b>	<p>Bei einem idealen Würfel geht man davon aus, dass jede Zahl zwischen 1 und 6 die gleiche Chance zum Auftreten hat.</p> <p>Wir definieren das Ereignis E: Die gewürfelte Zahl ist eine 6</p> <p>Die Wahrscheinlichkeit für das Auftreten dieser Zahl wird wie folgt definiert:</p> $p = P(E) = \frac{\text{Anzahl der zu E gehörigen Ergebnisse}}{\text{Anzahl aller möglichen Ergebnisse}}$ <p>Für den Würfel bedeutet das, zu E gehört nur <u>ein</u> Ergebnis, nämlich die Zahl 6.</p> <p>Die Anzahl aller möglichen Ergebnisse sind die Zahlen von 1 bis 6, also gibt es 6 mögliche Ergebnisse.</p> <p>Damit gilt für die Wahrscheinlichkeit, eine 6 zu würfeln</p> $p = P(E) = \frac{\text{Anzahl der zu E gehörigen Ergebnisse}}{\text{Anzahl aller möglichen Ergebnisse}} = \frac{1}{6} = 0,1\bar{6}$
--	--

**Übung:** Berechnen Sie die Wahrscheinlichkeit für das Auftreten einer geraden Zahl größer als 2 bei einmaligem würfeln.

**Lösung:** Die Ergebnismenge besteht aus 6 möglichen Ergebnissen:  $S = \{1; 2; 3; 4; 5; 6\}$   
Die Ereignismenge besteht aus 2 möglichen Ergebnissen:  $E = \{4; 6\}$   
Damit gilt für die Wahrscheinlichkeit, eine gerade Zahl zu würfeln, die größer als 2 ist:

$$p = P(E) = \frac{2}{6} = \frac{1}{3} = 0,3\bar{3}$$

**statistische  
Wahrscheinlichkeit  
am Beispiel von  
Heftzweckenwürfen**

Wirft man eine Heftzwecke, so kann sie entweder auf den Rücken fallen oder seitlich liegen bleiben.





Man kann nicht davon ausgehen, dass hier die Chancen gleich sind. Die Ursache liegt in der Herstellung der Heftzwecke. Es kann sein, dass der Rücken sehr massiv oder weniger massiv gefertigt ist.

Um hier eine Wahrscheinlichkeitsaussage zu treffen, muss experimentiert werden.

Experiment:

Eine Heftzwecke wird 100 mal geworfen, die relativen Häufigkeiten werden berechnet.

Ergebnis:

Ereignis			Summe n
absolute Häufigkeit $n_i$	44	56	100
relative Häufigkeit	$\frac{44}{100}$	$\frac{56}{100}$	$\frac{100}{100}$
$h(e_i) = \frac{n_i}{n}$	= 0,44	= 0,56	= 1
relative Häufigkeit in %	44%	56%	100%

Die Erfahrung zeigt, dass mit steigender Versuchszahl der Wert der relativen Häufigkeit immer mehr einem Endwert näher kommt, er pendelt sich ein.

Diesen Endwert nennt man **statistische Wahrscheinlichkeit**.

Um für unser Experiment eine vernünftige Wahrscheinlichkeitsaussage zu treffen, müssten wir diesen Versuch sehr oft wiederholen.

Wird die Anzahl der Versuche wie z.B. beim Würfeln immer höher gewählt, streut die relative Häufigkeit für das Auftreten einer bestimmten Augenzahl immer enger um einen bestimmten Wert, beim Würfeln um den Wert 1/6. Die statistische Wahrscheinlichkeit wird daher als Grenzwert definiert, die Anzahl der Versuche soll gegen unendlich streben:

$$p = P(E) = \lim_{n \rightarrow \infty} \frac{H(E)}{n}$$

mit n als Anzahl der Versuche  
und mit H(E) als absolute Häufigkeit

**Merke:** Die Wahrscheinlichkeit ist die beste Vorhersage für die zu erwartende relative Häufigkeit des bestimmten Ereignisses bei einem Zufallsversuch.

Ein Versuch soll verdeutlichen, dass sich die relative Häufigkeit von Ereignissen auf einen bestimmten Wert einpendelt, wenn die Anzahl der Versuche nur groß genug ist.

**Versuch:**

Werfen Sie 10 Heftzwecken gleichzeitig und merken Sie sich die Anzahl des Ereignisses.

E: Die Heftzwecke liegt auf dem Rücken.

Führen Sie diesen Versuch insgesamt 10 mal durch.

Die Versuchsdurchführung soll als gleichwertig mit dem Versuch eine Heftzwecke 100 mal zu werfen angesehen werden.

Tragen Sie die **kumulierte absolute Häufigkeit** in die Tabelle ein und berechnen Sie die relativen Häufigkeiten.

Versuch Nr.	1	2	3	4	5	6	7	8	9	10
$n_i$	10	20	30	40	50	60	70	80	90	100
H(E) kumuliert	5	9	11	14	18	25	28	42	37	44
$h(E) = \frac{H(E)}{n_i}$	0,5	0,45	0,37	0,35	0,36	0,42	0,4	0,4	0,41	0,44

Wird dieser Versuch von mehreren Personen unter gleichen Bedingungen durchgeführt, so kann das als gleichbedeutend mit einer Erhöhung der Anzahl der Versuche gewertet werden.

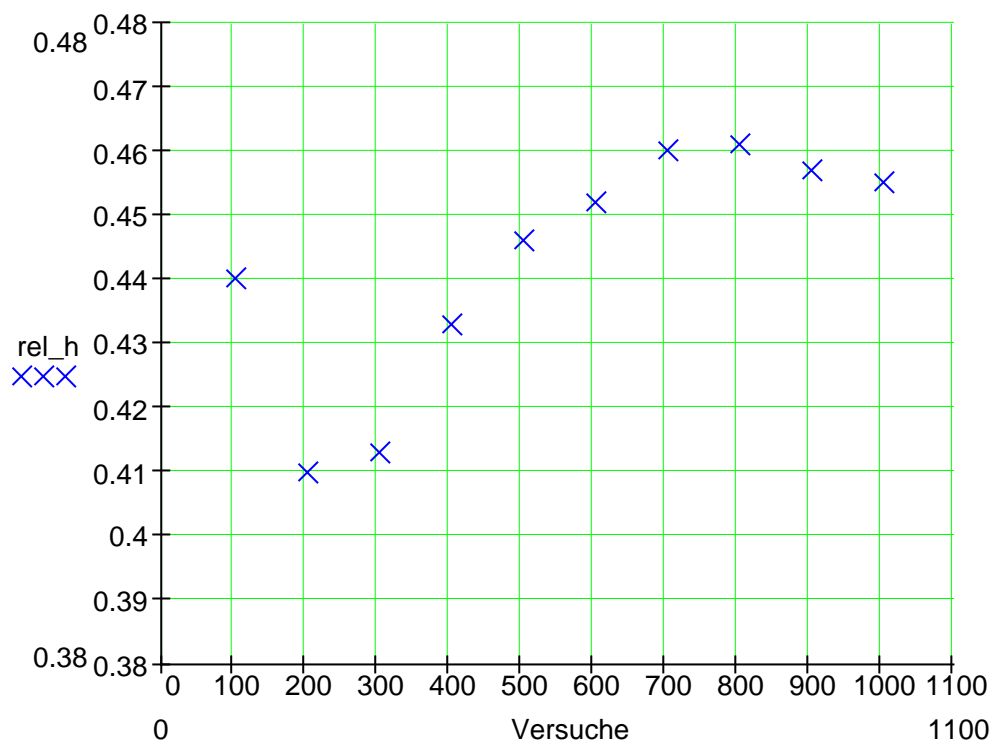
Eine Aufsummierung der Ergebnisse von z. B. 10 Versuchspersonen ist gleichbedeutend mit einer Vergrößerung der Anzahl der Versuche auf 1000. Berechnen Sie auch hier die relativen Häufigkeiten.

Person Nr.	1	2	3	4	5	6	7	8	9	10
$n_i$	100	200	300	400	500	600	700	800	900	1000
H(E)	44	38	42	49	50	48	51	47	42	44
H(E) kumuliert	44	82	124	173	223	271	322	369	411	455
$h(E) = \frac{H(E)}{n_i}$	0,44	0,41	0,413	0,433	0,446	0,452	0,46	0,461	0,457	0,455

Tragen Sie die relativen Häufigkeiten in ein Diagramm ein und betrachten Sie die Entwicklung der Relativen Häufigkeiten.

Geben Sie ein Intervall an, auf welches sich die relativen Häufigkeiten einzupendeln scheinen.

Kommentieren Sie den Ausgang des Experimentes.



Die relativen Häufigkeiten scheinen sich auf das Intervall  $I = [0,45;0,46]$  einzupendeln.

Das Experiment verdeutlicht, dass bei einer geringen Anzahl von Versuchen die relative Häufigkeit stark um einen bestimmten Wert pendelt.

Je größer die Anzahl der Versuche wird, desto mehr nähert sich der Wert der relativen Häufigkeit einem bestimmten Wert.

Dieser Wert kann als statistische Wahrscheinlichkeit für das Auftreten des Ereignisses E gedeutet werden.

Für unser Beispiel bedeutet das, dass die Wahrscheinlichkeit dafür, dass die Heftzwecke auf dem Rücken liegt zwischen den Werten 0,45 und 0,46 zu finden ist. Für das Gegenereignis (Heftzwecke liegt auf der Seite) liegt die Wahrscheinlichkeit zwischen den Werten 0,54 und 0,55.

Das bedeutet, die verwendete Heftzwecke hat für das Auftreten beider Ereignisse (Rücken oder Seite) ungleiche Wahrscheinlichkeiten.

**Beispiel:**

Das nebenstehende Glücksrad hat sechs Sektoren, teils unterschiedlicher Größe.

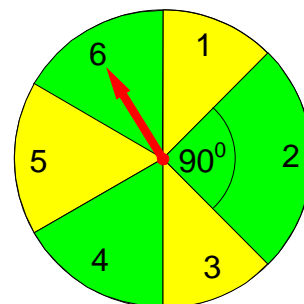
Die Ergebnismenge  $S$  besteht aus 6 möglichen Ergebnissen:

$$S = \{1;2;3;4;5;6\}$$

Wir definieren zwei Ereignisse:

$$A: \text{Die Nummer ist gerade} \Rightarrow A = \{2;4;6\}$$

$$B: \text{Der Sektor ist gelb} \Rightarrow B = \{1;3;5\}$$



Wenn das Glücksrad auf einem der Sektoren 2, 4 oder 6 stehen bleibt, sagt man, dass das Ereignis A eingetreten ist.

Bleibt der Zeiger auf Sektor 1, 3 oder 5 stehen, tritt Ereignis B ein.

Zuerst betrachten wir die Wahrscheinlichkeiten der Elementarereignisse.

$$P(1) = P(3) = \frac{1}{8} \quad P(2) = \frac{1}{4} \quad P(4) = P(5) = P(6) = \frac{1}{6}$$

Die Wahrscheinlichkeit für das Eintreten des Ereignisses A kann wie folgt berechnet werden:

$$P(A) = P(\{2;4;6\}) = P(2) + P(4) + P(6) = \frac{1}{4} + \frac{1}{6} + \frac{1}{6} = \frac{7}{12}$$

Die Wahrscheinlichkeit für das Eintreten des Ereignisses B kann wie folgt berechnet werden:

$$P(B) = P(\{1;3;5\}) = P(1) + P(3) + P(5) = \frac{1}{8} + \frac{1}{8} + \frac{1}{6} = \frac{5}{12}$$

**Übung:** Ermitteln Sie die Wahrscheinlichkeit für das Gegenereignis von A

**Lösung:** Die Ergebnismenge  $S$  besteht aus den Zahlen 1, 2, 3, 4, 5 und 6

Zum Ereignis A gehören die geraden Zahlen 2, 4 und 6.

Das Gegenereignis zu A findet man über die Differenzmengenbildung.

$$\bar{A} = S \setminus A = \{1;3;5\}$$

Zufälliger Weise ist das gerade die Ereignismenge B, deren Wert schon zu

$$P(B) = \frac{5}{12} \text{ bestimmt wurde.}$$

Eine weitere Lösungsmöglichkeit für das Gegenereignis  $\bar{A}$  von A:

$$P(\bar{A}) = 1 - P(A) = 1 - \frac{7}{12} = \frac{5}{12}$$

Die Wahrscheinlichkeit für die Ergebnismenge  $S$  ist immer 1, also  $P(S) = 1$

Das leuchtet auch sofort ein, denn ein Elementarergebnis tritt immer auf,

z. B. bei einem Würfel erscheint immer eine Zahl.

## Zusammenfassung elementarer Eigenschaften.

Ist  $S = \{e_1; e_2; e_3; \dots; e_n\}$  die Ergebnismenge eines Zufallsexperimentes, wobei  $e_1; e_2; e_3; \dots; e_n$  deren Elementarereignisse sind, z.B. beim Würfel die Zahlen 1, 2, 3, 4, 5, und 6

so gilt für die Wahrscheinlichkeit  $P$   $0 \leq P(e_i) \leq 1$  für alle  $i$  von 1 bis  $n$ .

Das bedeutet, die Wahrscheinlichkeit für das Eintreten eines Ereignisses liegt immer zwischen 0 und 1 und kann nicht negativ sein.

$P(S) = P(e_1) + P(e_2) + P(e_3) + \dots + P(e_n) = 1$  Elementare Summenregel

Für das Gegenereignis von  $A$ , also für  $\bar{A}$  gilt immer:

$$P(\bar{A}) = 1 - P(A)$$

Für ein unmögliches Ergebnis, z.B. beim 6-er Würfel eine 7 zu würfeln gilt:

$$P(\emptyset) = 0$$

**Übung:** Ein Würfel wird einmal geworfen. Folgende Ereignisse werden festgelegt.

A: Die Augenzahl ist kleiner als 4

B: Die Augenzahl ist eine ungerade Zahl

C: [ 4 ; 5 ]

a)  $E_1 = A \cap B$

Bestimmen Sie  $P(E_1)$  und beschreiben Sie  $E_1$  mit Worten.

b)  $E_2 = A \cup B$

Bestimmen Sie  $P(E_2)$  und beschreiben Sie  $E_2$  mit Worten.

c)  $E_3 = \bar{A} \cap B$

Bestimmen Sie  $P(E_3)$  und beschreiben Sie  $E_3$  mit Worten.

d)  $E_4 = A \cap C$

Bestimmen Sie  $P(E_4)$  und beschreiben Sie  $E_4$  mit Worten.

**Lösung:** a)  $A = \{1;2;3\}$      $B = \{1;3;5\}$      $\Rightarrow E_1 = A \cap B = \{1;3\}$

$$P(E_1) = P(1) + P(3) = \frac{1}{6} + \frac{1}{6} = \frac{1}{3}$$

$E_1$  : Die Augenzahl ist kleiner als 4 **und** eine ungerade Zahl.

b)  $A = \{1;2;3\}$      $B = \{1;3;5\}$      $\Rightarrow E_2 = A \cup B = \{1;2;3;5\}$

$$P(E_2) = P(1) + P(2) + P(3) + P(5) = \frac{1}{6} + \frac{1}{6} + \frac{1}{6} + \frac{1}{6} = \frac{2}{3}$$

$E_2$  : Die Augenzahl ist kleiner als 4 **oder** eine ungerade Zahl.

c)  $A = \{1;2;3\}$      $\Rightarrow \bar{A} = \{4;5;6\}$     Die Augenzahl ist größer als 3

$B = \{1;3;5\}$     Die Augenzahl ist eine ungerade Zahl

$$E_3 = \bar{A} \cap B = \{5\}$$

$$P(E_3) = P(5) = \frac{1}{6}$$

$E_3$  : Die Augenzahl ist größer als 3 **und** eine ungerade Zahl.

d)  $A = \{1;2;3\}$      $C = \{4;5\}$      $\Rightarrow E_4 = A \cap C = \{ \} = \emptyset$

$$P(E_4) = P(\emptyset) = 0$$

$E_4$  : Die Augenzahl ist kleiner als 4 **und** 4 oder 5

Ein solches Ereignis nennt man **unvereinbar**, daher ist die Wahrscheinlichkeit für das auftreten von  $E_4$  gleich Null.

## Laplace- Experimente

Wir haben bisher zwei verschiedene Arten von Zufallsversuchen kennen gelernt.

1. solche, mit gleicher Wahrscheinlichkeitsverteilung.
2. solche mit ungleicher Wahrscheinlichkeitsverteilung.

Zur ersten Gruppe gehören:

- Werfen eines Würfels
- Werfen einer Münze
- Drehen eines Glücksrades mit gleich großen Segmenten

Zur zweiten Gruppe gehören:

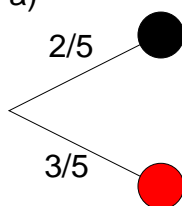
- Werfen einer Heftzwecke
- Drehen eines Glücksrades mit ungleich großen Segmenten

<b>Laplace-Experiment</b>	<p>Haben alle möglichen Ergebnisse eines Zufallsversuches (erste Gruppe) die gleiche Wahrscheinlichkeit, dann spricht man von einem <b>Laplace- Experiment</b>.</p> <p>Wenn man also jedem Ergebnis die Wahrscheinlichkeit</p> $p = \frac{1}{\text{Anzahl aller möglichen Ergebnisse}}$ <p>zuordnet,</p> <p>dann ist dies eine Modell- Annahme (Laplace- Modell)</p> <p>Bei einem Laplace- Experiment gilt für die Wahrscheinlichkeit <math>P(E)</math> eines Ereignisses:</p> $P(E) = \frac{\text{Anzahl der zu E gehörigen Ergebnisse}}{\text{Anzahl aller möglichen Ergebnisse}}$
---------------------------	--

**Übung:** Ein Glücksrad hat 10 gleiche Sektoren.  
E : Zeiger bleibt auf einer durch 3 teilbaren Zahl stehen.  
Bestimmen Sie  $P(E)$ .  
Wie groß ist die Wahrscheinlichkeit dafür, dass der Zeiger auf einer Zahl stehen bleibt, die nicht durch 3 teilbar ist?

**Lösung:**  $S = \{1;2;3;4;5;6;7;8;9;10\}$      $E = \{3;6;9\}$      $\Rightarrow P(E) = \frac{3}{10} = 0,3$   
 $P(\bar{E}) = 1 - P(E) = 1 - 0,3 = 0,7$

**Übung:** In einer Urne befinden sich 2 schwarze und 3 rote Kugeln.  
Es wird einmal gezogen.  
a) Mit welcher Wahrscheinlichkeit ist die gezogene Kugel schwarz?  
b) Wie viele schwarze Kugeln müssen mindestens in der Urne liegen, so dass die Wahrscheinlichkeit, eine schwarze Kugel zu ziehen, größer als 0,7 ist?

**Lösung:** a)

Lösung mittels Baumdiagramm

Die Wahrscheinlichkeit eine schwarze Kugel zu ziehen ist  $2/5$ , die eine rote zu ziehen ist  $3/5$ .

Die Wahrscheinlichkeiten werden an die jeweiligen Pfade geschrieben.

b)

In der Urne seien  $x$  schwarze und 3 rote Kugeln. Insgesamt befinden sich in der Urne also  $x + 3$  Kugeln.

E: die gezogene Kugel ist schwarz

Ansatz:  $P(E) > 0,7$

$$P(E) = \frac{x}{x+3} \Rightarrow \frac{x}{x+3} > 0,7$$

$$\Leftrightarrow x > (x+3) \cdot 0,7 = 0,7x + 2,1 \mid -0,7x$$

$$\Leftrightarrow 0,3x > 2,1 \mid :0,3$$

$$\Leftrightarrow x > 7$$

Es müssen also mindestens 8 schwarze Kugeln in der Urne liegen, damit eine solche mit einer Wahrscheinlichkeit von mindestens 0,7 gezogen wird.